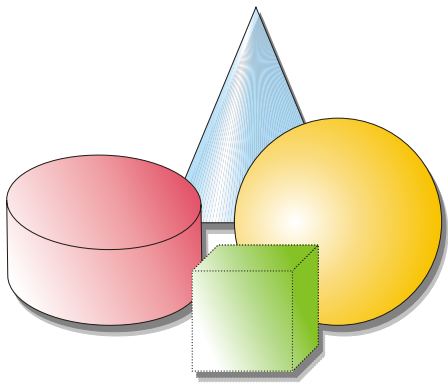


*Klasse 3*  
*Gratisheft*



**www.mathiki.de**

Copyright © Peggy's Mathiki-Camp, 2011

# Montag

Schreibe die Zahl:

$$3H \ 4Z \ 7E = \underline{\quad}$$

$$8H \ 5E = \underline{\quad}$$

$$6H \ 2Z = \underline{\quad}$$

$$4E \ 9H \ 8Z = \underline{\quad}$$

$$5Z \ 7E \ 1H = \underline{\quad}$$

© [www.mathiki.de](http://www.mathiki.de)

---

Berechne:

$$146 + 32 = \underline{\quad}$$

$$488 + 14 = \underline{\quad}$$

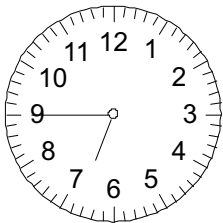

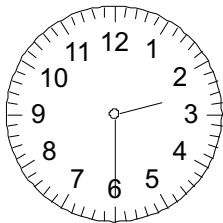
$$673 + 56 = \underline{\quad}$$

$$495 + 27 = \underline{\quad}$$

$$329 + 15 = \underline{\quad}$$

# Dienstag

Wie spät ist es vormittags:



© www.mathiki.de

\_\_\_\_\_ Uhr      \_\_\_\_\_ Uhr      \_\_\_\_\_ Uhr

---

Marc hat 157 Briefmarken. Max hat 19 Briefmarken weniger.

Wie viele Briefmarken hat Max?

# Mittwoch

Bilde den Vorgänger und den Nachfolger von:

\_\_\_\_, 374, \_\_\_\_

\_\_\_\_, 799, \_\_\_\_

\_\_\_\_, 400, \_\_\_\_

\_\_\_\_, 870, \_\_\_\_

\_\_\_\_, 696, \_\_\_\_

© [www.mathiki.de](http://www.mathiki.de)

---

Was ist die Hälfte von:

30 Bananen?      \_\_\_\_ Bananen

18 Äpfel?      \_\_\_\_ Äpfel

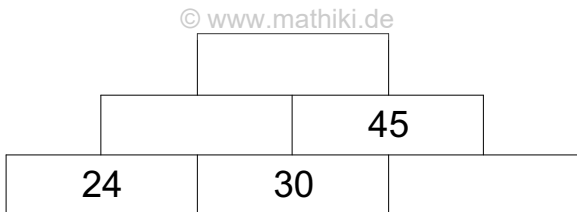
42 Birnen?      \_\_\_\_ Birnen

70 Pflaumen?      \_\_\_\_ Pflaumen

90 Tomaten?      \_\_\_\_ Tomaten

# Donnerstag

Ergänze die Zahlenmauer:



---

Vergleiche die Zahlen miteinander (<, >, =):

$874 \square 847$

$653 \square 563$

$161 \square 116$

$696 \square 669$

$572 \square 725$

# Freitag

Laura hat 187€ im Sparschwein. Opa schenkt ihr 56€.

Wie viele Euro hat sie jetzt?

---

Fülle die Lücken der Zahlenreihen:

991	993			999
-----	-----	--	--	-----

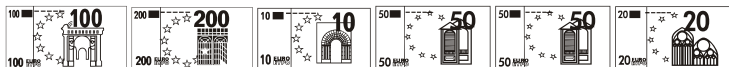
© [www.mathiki.de](http://www.mathiki.de)

673	676			685
-----	-----	--	--	-----

464	462			456
-----	-----	--	--	-----

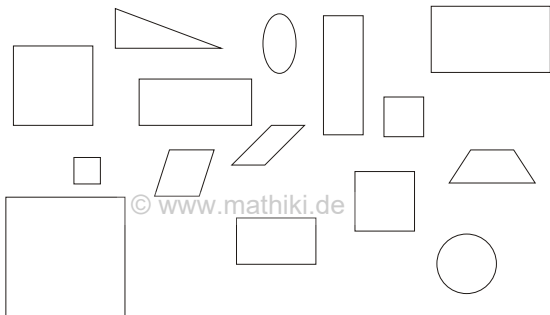
# Samstag / Sonntag

Wie viele Euro sind das:



\_\_\_\_\_ Euro

Markiere alle Quadrate:



# Wochenkontrollblatt

	Mo	Di	Mi	Do	Fr	Sa/So
1. Aufgabe						
2. Aufgabe						

Die Aufgabe war:  - einfach;  - ging so;  - schwer; x - zu schwer



# Lösungen Gratisheft

## Montag:

1. 347; 805; 620; 984; 157
2. 178; 502; 729; 522; 344

## Dienstag:

1. 2.30 Uhr; 9.15 Uhr; 6.45 Uhr
2.  $157-19=138$   
Max hat 138 Briefmarken.

## Mittwoch:

1. 373-374-375; 798-799-800; 399-400-401;  
869-870-871; 695-696-697
2. 15 Bananen; 9 Äpfel; 21 Birnen; 35 Pflaumen;  
45 Tomaten

## Donnerstag:

1. 24-30-15; 54-45; 99
2.  $874 > 847$ ;  $653 > 563$ ;  $161 > 116$ ;  $696 > 669$ ;  
 $572 < 725$

## Freitag:

1.  $187\text{€} + 56\text{€} = 243\text{€}$   
Laura hat jetzt 243€.
2. 991-993-995-997-999  
673-676-679-682-685  
464-462-460-458-456

# Lösungen Gratisheft

## Samstag / Sonntag:

1. 436€

2.

